

Nombre _____ Fecha _____

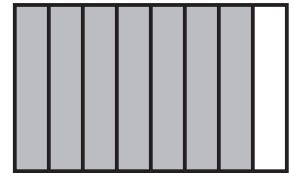

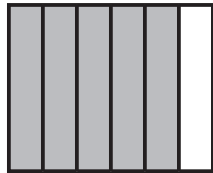
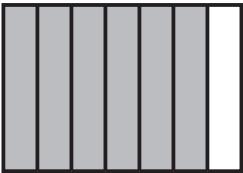
1 Calcula y relaciona la fracción suma con su representación.

• $\frac{2}{6} + \frac{3}{6} =$

• $\frac{4}{7} + \frac{2}{7} =$

• $\frac{4}{8} + \frac{3}{8} =$

• $\frac{2}{9} + \frac{6}{9} =$

**2** Suma.

• $\frac{1}{6} + \frac{2}{6} + \frac{2}{6} =$

• $\frac{3}{8} + \frac{1}{8} + \frac{2}{8} =$


• $\frac{4}{9} + \frac{1}{9} + \frac{3}{9} =$


• $\frac{4}{10} + \frac{1}{10} + \frac{3}{10} =$

• $\frac{5}{11} + \frac{2}{11} + \frac{1}{11} =$

• $\frac{1}{12} + \frac{4}{12} + \frac{6}{12} =$

3 Calcula las restas y representa la fracción obtenida.

• $\frac{4}{5} - \frac{1}{5} = \frac{\dots}{\dots}$ 

• $\frac{6}{7} - \frac{2}{7} = \frac{\dots}{\dots}$ 

• $\frac{6}{8} - \frac{3}{8} = \frac{\dots}{\dots}$ 

4 Resuelve.

Pablo y Lorena partieron una pizza en 10 partes iguales.
Pablo se comió 4 trozos y Lorena, 3.

- ¿Qué fracción de pizza se comieron en total?
- ¿Qué fracción de pizza comió Lorena menos que Pablo?

**REPASA ESTA INFORMACIÓN.** Después, corrige tus actividades.

- Para sumar dos o más fracciones de igual denominador, se suman los numeradores y se deja el mismo denominador.
- Para restar dos fracciones de igual denominador, se restan los numeradores y se deja el mismo denominador.