





Nombre \_\_\_\_\_ Fecha \_\_\_\_\_

**1** Representa en el reloj de agujas la hora que marca cada reloj digital.



**2** ¿Cuánto tiempo ha pasado? Observa los relojes y completa.

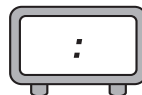
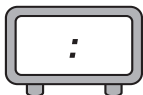




**3** Lee y representa cada hora en los relojes.

Un grupo de amigos salieron de excursión a las 10 y cuarto de la mañana y regresaron a las 5 y media de la tarde.

SALIERON

REGRESARON



**REPASA ESTA INFORMACIÓN.** Después, corrige tus actividades.

- Las horas antes del mediodía se representan de igual forma en los relojes de agujas y en los digitales.
- Las horas después del mediodía se representan en los relojes digitales por: 13, 14, 15, 16...