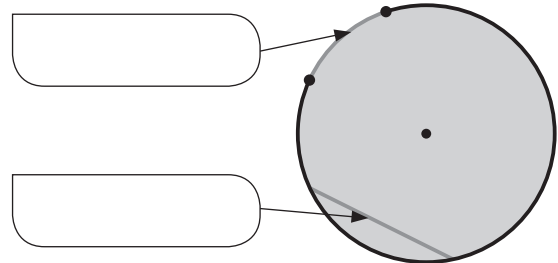
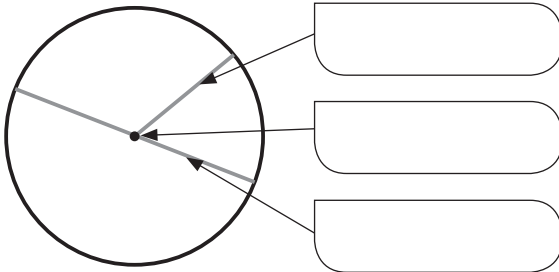



Nombre _____ Fecha _____

1 Escribe el nombre del elemento señalado.



2 Dibuja.

- ROJO Un radio.
- AZUL Un diámetro.
- VERDE Una cuerda.
- ROSA Un arco.



3 Observa los puntos y traza con regla y compás.

- La circunferencia que pasa por los puntos *A* y *B*.
- El círculo que pasa por los puntos *C* y *D*.

A

B

C

REPASA ESTA INFORMACIÓN. Después, corrige tus actividades.

Los elementos de la circunferencia y el círculo son:

- Centro es el punto que está a igual distancia de cualquier punto de la circunferencia
- Radio es el segmento que une el centro con cualquier punto de la circunferencia.
- Diámetro es el segmento que une dos puntos de la circunferencia y pasa por el centro.
- Cuerda es el segmento que une dos puntos de la circunferencia.
- Arco es la parte de circunferencia comprendida entre dos puntos.