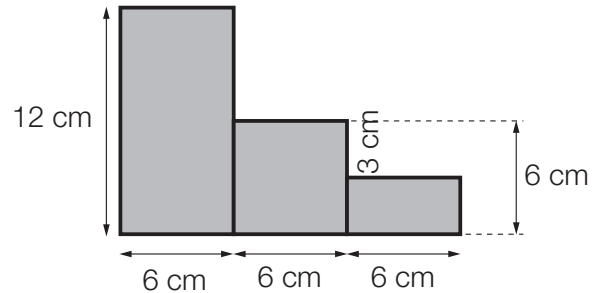
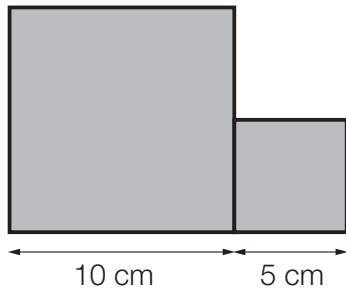


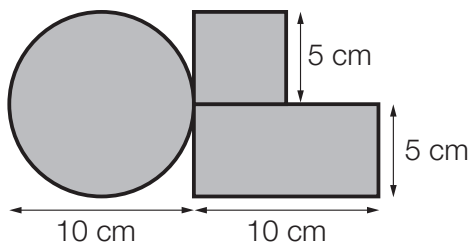
Nombre \_\_\_\_\_ Fecha \_\_\_\_\_

**1** Calcula el área de cada figura.



**2** Resuelve.

Para promocionar la nueva bicicleta de montaña, una empresa ha hecho este logotipo con chapa.



- ¿Qué cantidad de chapa tiene el logotipo?
- Si a la empresa le han encargado 1.000 logotipos, ¿cuántos metros cuadrados habrá utilizado?

**REPASA ESTA INFORMACIÓN.** Después, corrige tus actividades.

Para calcular el área de figuras compuestas, se descompone la figura en otras de área conocida y se calcula el área total.