


Nombre _____ Fecha _____

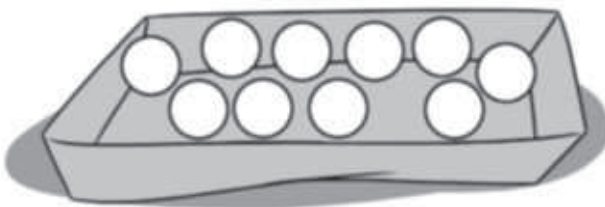
1 Observa las fichas que hay de cada clase y contesta.



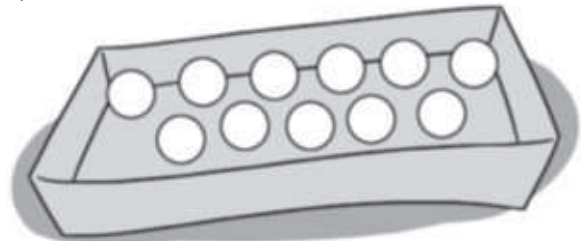
- ¿Qué es más probable, coger una ficha cuadrada o coger una circular? ¿Por qué?
- ¿Qué es menos probable, coger una ficha circular o coger una triangular? ¿Por qué?
- ¿Qué clases de fichas tienen igual probabilidad de salir? ¿Por qué?

2 Lee detenidamente y colorea las bolas.

- En la caja hay 5 bolas rojas.
- Es más probable coger una bola azul que una verde.



- En la caja hay 3 bolas verdes.
- Es igual de probable coger una bola roja que una bola amarilla.



3 Resuelve.

En una bolsa hay 4 bolas rojas y 5 azules. Daniel gana si coge una bola roja y Elena gana si coge una azul.
¿Quién tiene más probabilidad de ganar?



REPASA ESTA INFORMACIÓN. Después, corrige tus actividades.

En una bolsa hay 1 bola negra, 1 blanca y 2 grises.

- Es más probable coger una bola gris que una bola blanca.
- Es menos probable coger una bola negra que una bola gris.
- Es igual de probable coger una bola negra que una bola blanca.