

5




Apellidos:		Curso:	Grupo:
Nombre:	Fecha:		

REPRESENTACIÓN DE NÚMEROS ENTEROS

- Obtenemos los **números enteros** poniendo un signo + o un signo - delante de los números naturales.

Números naturales: 5, 2, 17, 8 Números enteros: -5, +2, +17, -8

- Para **representar** los números enteros dibujamos una recta y la dividimos en partes iguales. En una de esas divisiones colocamos el 0. A la izquierda del 0 situamos los números negativos y a la derecha los positivos.

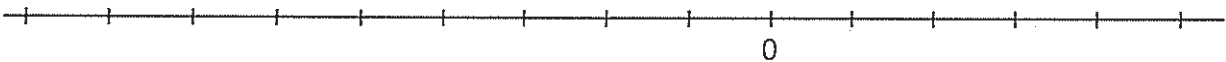


1. Coloca en estas rectas numéricas los números enteros que puedas.

a) Números enteros pares:

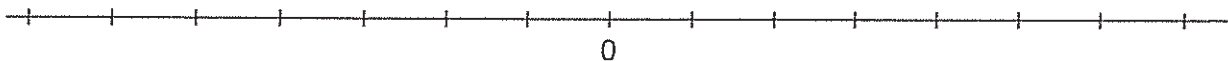


b) Números enteros impares:

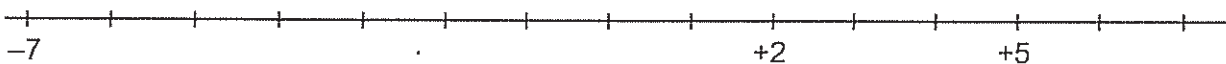


2. ¿En qué lugar hay que poner cada uno de estos números?

-2 +4 +1 -5 +3 -6 -1 -7

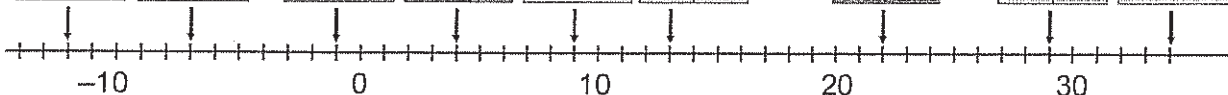


3. Observa esta recta. Alguien ha olvidado poner el 0. Colócalo tú.



4. ¿Qué número representa cada letra?

a = b = c = d = e = f = g = h = i =



M-3