


## ORDENACIÓN DE NÚMEROS ENTEROS

- Para ordenar los números enteros dibujamos una recta y la dividimos en partes iguales.

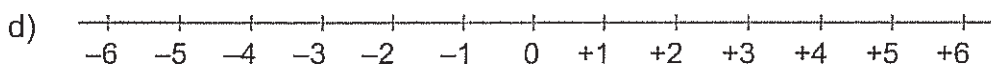
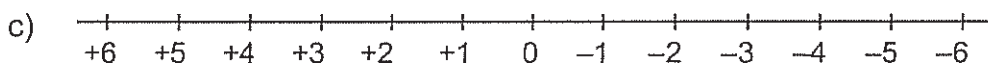
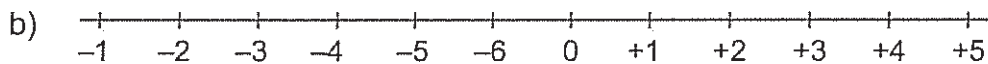
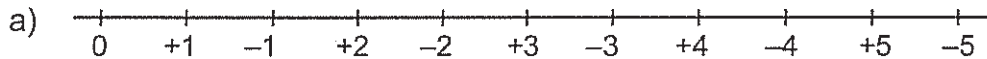


- En una de esas divisiones colocamos el 0. Los enteros positivos quedan a la derecha del 0 y los negativos a la izquierda, y cada división corresponde a un número empezando por el +1 (a la derecha del 0) y por el -1 (a la izquierda del 0).



1. Siguiendo las instrucciones del recuadro, dibuja una recta numérica que llegue hasta el -8 por la izquierda y hasta el +8 por la derecha, y escribe todos los números intermedios.

2. De las siguientes rectas numéricas solo hay una que esté bien hecha. ¿Cuál es?



3. Completa esta tabla:

	Forma de ordenar	Números ordenados
0, -21, +6, -5, -9, +8, -1	de mayor a menor	
-6, -12, -1, -10, -7, -4, +3		$-12 < -10 < -7 < -6 < -4 < -1 < +3$
+16, +71, -4, -2, +53, +44, +7	de menor a mayor	
-11, -30, +17, -6, -20, -21, +2, 0		$+17 > +2 > 0 > -6 > -11 > -20 > -21 > -30$