



| | | | |
|-----------|------------|--------|--------|
| sm | Apellidos: | Curso: | Grupo: |
| | Nombre: | Fecha: | |

MÚLTIPLOS DE UN NÚMERO NATURAL

- Los múltiplos de un número son los números que se obtienen al multiplicar ese número por todos los números naturales.

| | Se multiplica por 3 | | | | | | | |
|-----------------------|---------------------|-----|-----|-----|-----|-----|-----|-------|
| | × 1 | × 2 | × 3 | × 4 | × 5 | × 6 | × 7 | × ... |
| Múltiplos de 3 | 3 | 6 | 9 | 12 | 15 | 18 | 21 | ... |

1. Completa estas tablas:

| | Se multiplica por 11 | | | | | | | |
|------------------------|----------------------|-----|-----|-----|-----|-----|-----|-------|
| | × 1 | × 2 | × 3 | × 4 | × 5 | × 6 | × 7 | × ... |
| Múltiplos de 11 | | | | | | | | |

| | Se multiplica por... | | | | | | | |
|-------------------------|----------------------|-----|-----|-----|-----|-----|-----|-------|
| | × 1 | × 2 | × 3 | × 4 | × 5 | × 6 | × 7 | × ... |
| Múltiplos de ... | 2 | 4 | 6 | 8 | 10 | 12 | 14 | ... |

2. Escribe los 12 primeros múltiplos de 8.

3. Contesta V, si son verdaderas, o F, si son falsas, las siguientes afirmaciones, y corrige las que sean falsas:

- 63 es múltiplo de 9 porque 9×7 son 63.
- 117 es múltiplo de 7 porque acaba en 7.
- 616 es múltiplo de 13 porque la suma de sus cifras es 13.
- 100 es múltiplo de 25 porque hay un número que al multiplicarlo por 25 da 100.
- 120 es múltiplo de 15 porque al multiplicar 15 por 8 da 120.

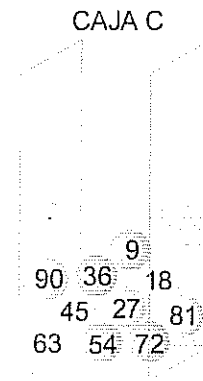
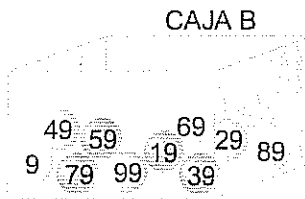
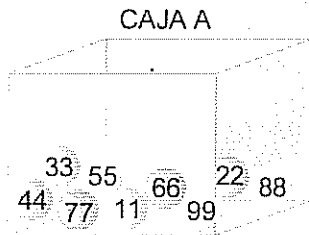


| | | | |
|------------|--------|--------|--------|
| Apellidos: | | Curso: | Grupo: |
| Nombre: | Fecha: | | |

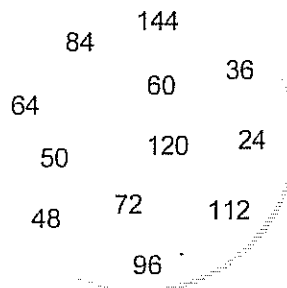
4. Escribe 5 múltiplos de cada uno de estos números:

- a) 15
- b) 24
- c) 30
- d) 25
- e) 20
- f) 18

5. Todos los números de una de estas cajas son múltiplos de 9. ¿Qué caja es?



6. El número 12 ha invitado a su fiesta de cumpleaños a algunos de sus múltiplos, pero tres números que no son múltiplos de 12 se han colado en la fiesta aprovechando la alegría y el alboroto. Ayuda al número 12 a encontrar a los 3 intrusos.



7. Las natillas se venden en paquetes de 4 unidades. ¿Cuántas natillas hay en 7 paquetes? ¿Puede una persona comprar 22 natillas?