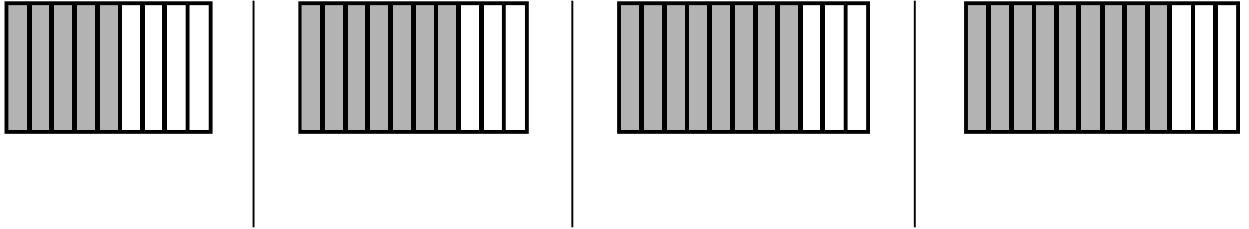


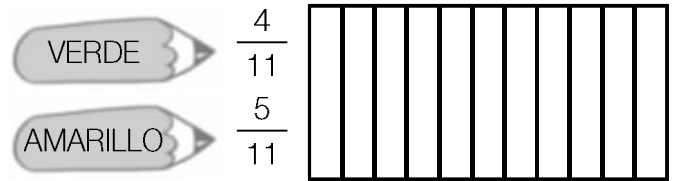
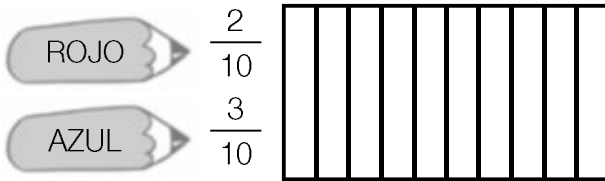
Nombre _____ Fecha _____

1 Escribe la fracción que representa la parte coloreada y contesta.



- ¿Qué fracción tiene el numerador menor? ¿Cómo se lee esta fracción?
- ¿Qué fracción tiene el denominador mayor? ¿Cómo se lee esta fracción?

2 Observa la figura y colorea.



- ¿Qué fracción de la figura queda sin colorear? ¿Cómo se lee?
- ¿Qué fracción de la figura queda sin colorear? ¿Cómo se lee?

2 En cada caso, escribe tres fracciones.

- De numerador 5.
- De denominador 12.

REPASA ESTA INFORMACIÓN. Después, corrige tus actividades.

- Los términos de una fracción son: numerador y denominador.
- El denominador indica las partes en que se divide la unidad.
- El numerador indica las partes que se toman de la unidad.